

Time: 10 Minutes

Paper Math 2

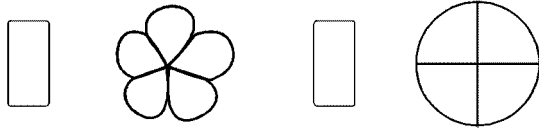
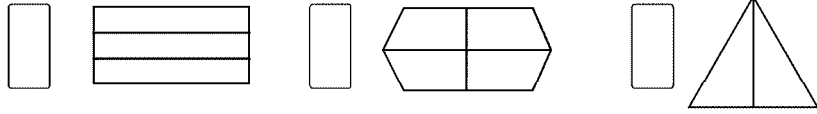
Total Marks: 10

3rd Month, 3rd Week, 2nd Day

Syllabus: Ex # 1. Q # 2.

Q.1. Colour one part of each shape and write fraction for the coloured part. (10)

ہر شکل کے ایک حصے میں رنگ کریں اور رنگ دار حصے کی فرکشن لکھیں۔



Time: 10 Minutes

Paper Math 2

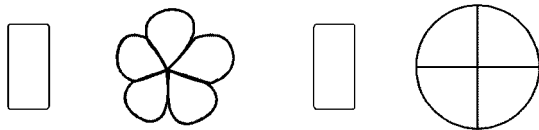
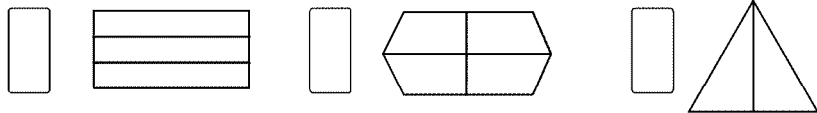
Total Marks: 10

3rd Month, 3rd Week, 2nd Day

Syllabus: Ex # 1. Q # 2.

Q.1. Colour one part of each shape and write fraction for the coloured part. (10)

ہر شکل کے ایک حصے میں رنگ کریں اور رنگ دار حصے کی فرکشن لکھیں۔



Time: 10 Minutes

Paper Math 2

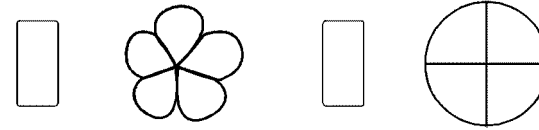
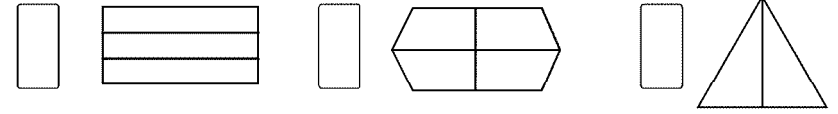
Total Marks: 10

3rd Month, 3rd Week, 2nd Day

Syllabus: Ex # 1. Q # 2.

Q.1. Colour one part of each shape and write fraction for the coloured part. (10)

ہر شکل کے ایک حصے میں رنگ کریں اور رنگ دار حصے کی فرکشن لکھیں۔



Time: 10 Minutes

Paper Math 2

Total Marks: 10

3rd Month, 3rd Week, 2nd Day

Syllabus: Ex # 1. Q # 2.

Q.1. Colour one part of each shape and write fraction for the coloured part. (10)

ہر شکل کے ایک حصے میں رنگ کریں اور رنگ دار حصے کی فرکشن لکھیں۔

